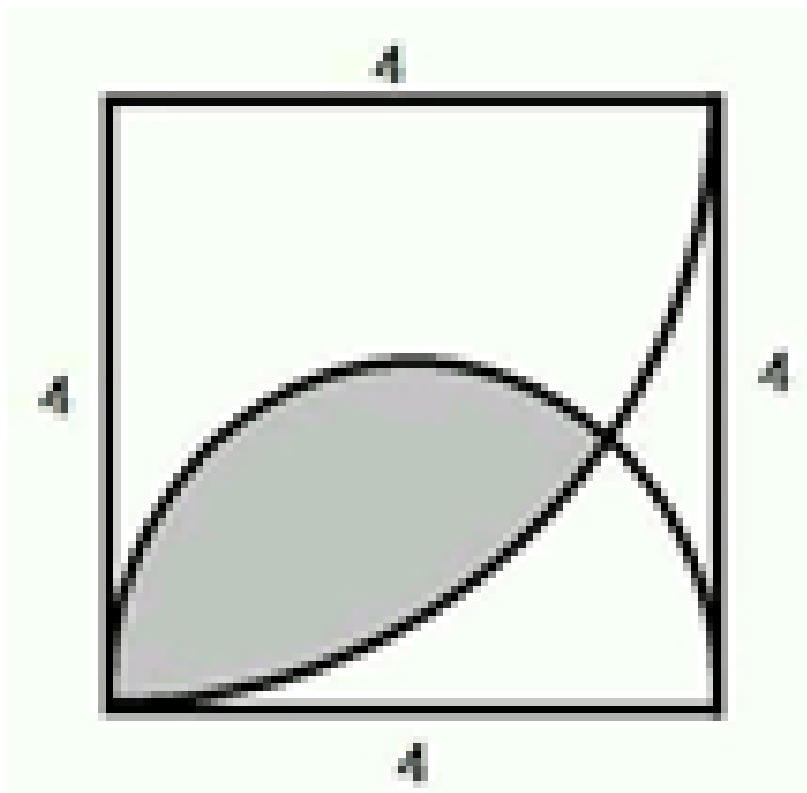


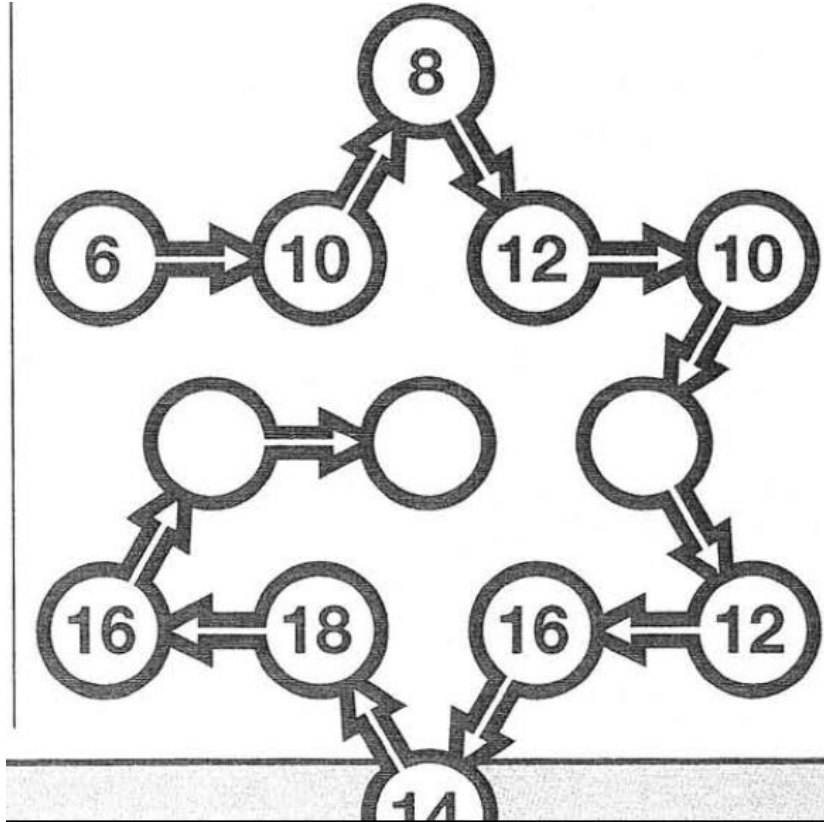
Dragefirkanten

Dagens opgave går ud på at tegne følgende firkant i geogebra




Kan man få geogebra til at beregne arealet af det grå område? (ved f.eks. at bruge polygon værktøjet).

Og så lige en grubler:



Hvad skal der stå i de tomme felter?

Og så den svære grubler som man godt må give et bud på men ikke et krav.



Tal i stedet for symboler

I skemaet herover står hvert af kortspillet's symboler for et bestemt ciffer – der *ikke* er 0. Hvilke fire tal skal sættes ind i stedet for spar, hjerter, ruder og klør, så regnestykkerne passer både vandret og lodret? To løsninger